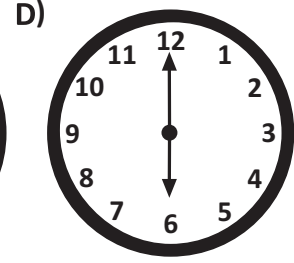
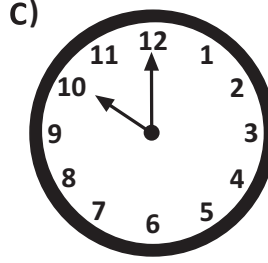
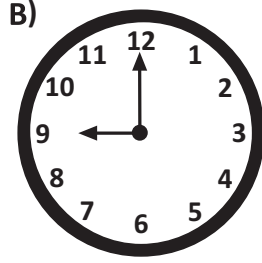
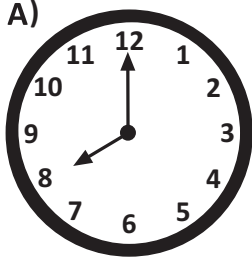


Darüssafaka
1863 EĞİTİM
KURUMLARI

**Matematik ve Türkçe
Örnek Soru Çözümleri**

1 Aşağıdaki saatlerden hangisinin akrep ve yelkovanı bir dar açı oluşturur?

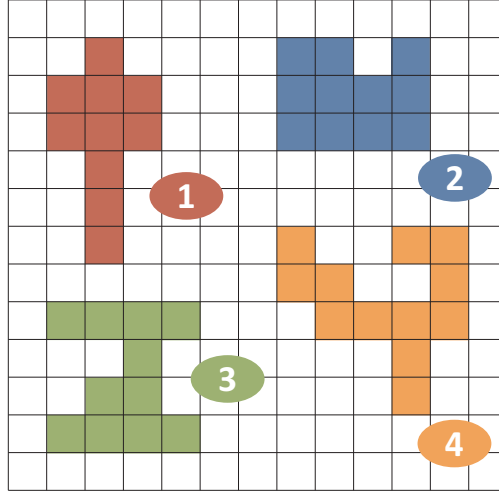


ÇÖZÜM

Doğru cevap (C) seçeneğidir.

A seçeneğinde geniş açı, B seçeneğinde dik açı, D seçeneğinde doğru açı bir açı vardır. C seçeneğinde ise dar açı vardır.

2



Yukarıdaki dülemsel bölgelerden hangisinin alanı en fazladır?

A) 1

B) 2

C) 3


D) 4

ÇÖZÜM

Doğru cevap (D) seçeneğidir.

1 numaralı bölge 10 kareden oluşmaktadır. 2 ve 3 numaralı bölgeler 9 kareden oluşmaktadır. 4 numaralı bölge ise 9 kareden oluşmaktadır. Bu durumda alanı en fazla olan bölge 4 numaralı bölgedir.

3



Yukarıdaki yarış arabalarının üstünde yazan ondalık sayılar, arabaların aynı sürede aldıkları mesafeleri km cinsinden göstermektedir.

Buna göre, yukarıdaki arabalardan en hızlı olan hangi renktir?

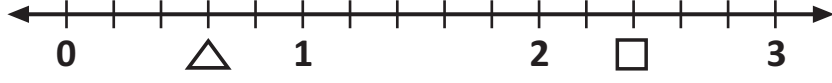
- A) Kırmızı B) Mavi C) Sarı D) Siyah

ÇÖZÜM

Doğru cevap **(B)** seçeneğidir.

Arabaların üstünde yazan ondalık sayılar arabaların aynı sürede aldıkları mesafeleri km cinsinden gösterdiği için en büyük sayıya sahip olan araba en hızlı arabadır. Buna göre $8,16 > 8,1 > 8,06 > 8,01$ olup en hızlı araç mavi araçtır.

4



Alp yukarıdaki sayı doğrusu üzerinde verilen \triangle ve \square şekilleri yerine gelen kesirleri yazacaktır. Buna göre Alp'in yazdığı kesirler sırasıyla aşağıdakilerden hangisidir?

A) $\frac{3}{5}, \frac{12}{5}$

B) $\frac{4}{5}, \frac{13}{5}$

C) $\frac{2}{5}, \frac{3}{5}$

D) $\frac{3}{6}, \frac{14}{6}$

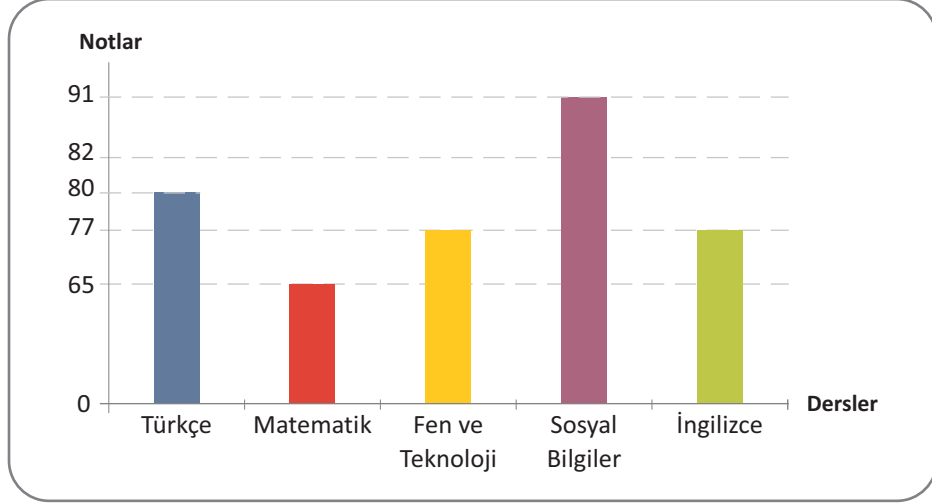
ÇÖZÜM

Doğru cevap (A) seçeneğidir.

\triangle şeklinin ifade ettiği kesir $\frac{3}{5}$ 'tür.

\square şeklinin ifade ettiği kesir $\frac{12}{5}$ 'dir.

- 5 Aşağıdaki grafikte bir öğrencinin Türkçe, Matematik, Fen ve Teknoloji, Sosyal Bilgiler ve İngilizce sınavlarından aldığı puanlar gösterilmektedir.



Buna göre bu öğrencinin Sosyal Bilgiler dersinden aldığı not ile Fen ve Teknoloji dersinden aldığı not arasındaki fark kaçtır?

- A) 5 B) 11 C) 14 D) 26

ÇÖZÜM

Doğru cevap (C) seçeneğidir.

Öğrencinin Sosyal Bilgiler dersinden aldığı not 91, Fen ve Teknoloji dersinden aldığı not ise 77'dir. $91 - 77 = 14$

- 1** Aşağıdaki cümlelerde altı çizili sözcüklerden hangisi mecaz anlamda kullanılmıştır?
- A) Geçen akşam çok mutsuz görünüyordun.
- B) Dolaptaki bütün tabaklar kırılmış.
- C) Kapalıçarşı her zaman insan kaynar.
- D) Soğuk su içersen hasta olursun.

ÇÖZÜM

Doğru cevap (C) seçeneğidir.

A, B ve D seçeneğinde yer alan altı çizili sözcükler mecaz anlamda kullanılmamıştır. İnsan kaynayamaz, dolayısıyla C seçeneğinde yer alan altı çizili sözcük ise mecaz anlamda kullanılmıştır.

2



“Harcamak” sözcüğünün bu afişteki anlamı aşağıdakilerden hangisidir?

- A) Herhangi bir nesneyi bir şey yapmak için kullanmak, tüketmek
- B) Birinin ölmesine sebep olmak
- C) Bir kimseyi manevi yönden kötü duruma düşürmek, feda etmek
- D) Birinin değer ve onurunu kırıcı bir durum yaratmak

ÇÖZÜM

Doğru cevap (A) seçeneğidir.

Afişte yer alan “Enerjini boşa harcama.” cümlesindeki harcama kelimesi tüketmek anlamında kullanılmıştır.

- 3** “Ağır” sözcüğü aşağıdaki cümlelerden hangisinde “yavaş” sözcüğünün eş anlamlısı olarak kullanılmıştır?
- A) Siyah araba ağır gidiyordu.
B) Bu ağır sorumluluğu taşıyamıyorum.
C) Ağır bir koku vardı odada.
D) Annemin elindeki ağır poşetleri aldım.

ÇÖZÜM

Doğru cevap **(A)** seçeneğidir.

A seçeneğinde yer alan “Siyah araba ağır gidiyordu.” cümlesindeki ağır sözcüğü yavaş sözcüğünün eş anlamlısı olarak kullanılmıştır.

4

1. Sonra sırasıyla süt, tahin ve cevizi de katıp karıştıralım.
2. Kek yapmak için önce yumurtaları ve şekeri iyice çırpıp içine pekmezi ilave edelim.
3. Ceviz, süt ve tahini karıştırdıktan sonra unu, kabartma tozunu ve vanilyayı da başka bir kaptaki eleyip karışıma ekleyelim.
4. Harcımızı yağlanmış ve unlanmış bir kek kalıbına döküp önceden ısıttığımız 180 derece fırında yaklaşık 30 dakika pişirelim.

Yukarıdaki cümlelerle anlamlı bir paragraf oluşturmak için sıralama nasıl olmalıdır?

- A) 2 - 1 - 3 - 4 B) 3 - 1 - 2 - 4 C) 2 - 3 - 4 - 1 D) 1 - 4 - 3 - 2

ÇÖZÜM

Doğru cevap (A) seçeneğidir.

Cümleler 2-1-3-4 şeklinde sıralandığında anlamlı bir paragraf oluşmaktadır.

- 5 Kayapo yerlileri adlı kabile, Amazon Yağmur Ormanları'nın derinliklerinde, hasırdan kulübelerde yaşarlar. Kabilenin adı "maymun gibi" anlamına gelir. Bu ismin kaynağı, her yıl düzenlenen bir kutlama sırasında kabile erkeklerinin maymun maskeleriyle yaptığı danstır.

Bu parçadan "Kayapo yerlileri" ile ilgili aşağıdaki bilgilerden hangisine değinilmemiştir?

- A) Amazon yağmur ormanlarının derinliklerinde yaşadıklarına
- B) "Kayapo" adının anlamının "maymun gibi" olduğuna
- C) Ulaşım için kayıkları kullandıklarına
- D) Hasırdan kulubelerde yaşadıklarına

ÇÖZÜM

Doğru cevap (C) seçeneğidir.

Parçadaki ilk cümlede Kayapo yerlilerinin Amazon yağmur ormanlarının derinliklerinde yaşadıkları belirtilmiştir. İkinci cümlede Kayapo adının anlamının "maymun gibi" olduğu belirtilmiştir. Birinci cümlede ise hasırdan kulübelerde yaşadıkları belirtilmiştir. Ancak parçada ulaşım için kayıkları kullandıklarına dair bir bilgi bulunmamaktadır.

