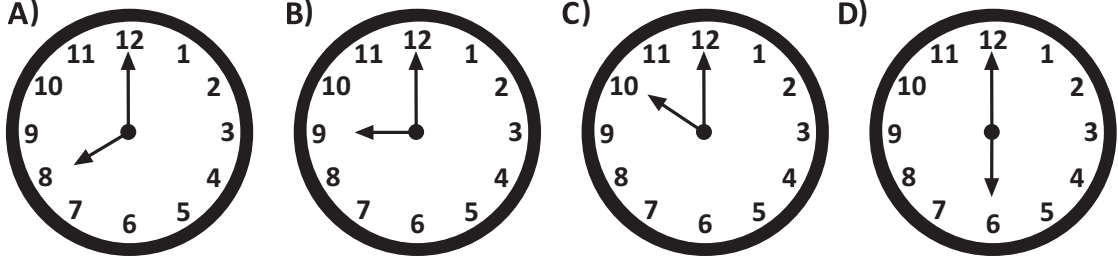
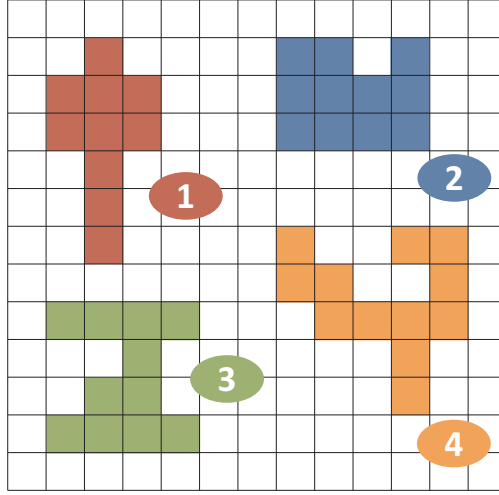


1 Aşağıdaki saatlerden hangisinin akrep ve yelkovanı bir dar açı oluşturur?



2



Yukarıdaki düzlemsel bölgelerden hangisinin alanı en fazladır?

- A) 1 B) 2 C) 3 D) 4

3

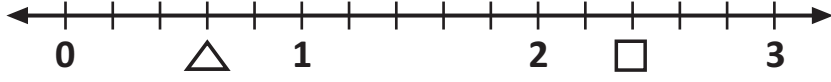


Yukarıdaki yarış arabalarının üstünde yazan ondalık sayılar, arabaların aynı sürede aldıkları mesafeleri km cinsinden göstermektedir.

Buna göre, yukarıdaki arabalardan en hızlı olan hangi renktir?

- A) Kırmızı B) Mavi C) Sarı D) Siyah

4



Alp yukarıdaki sayı doğrusu üzerinde verilen \triangle ve \square şekilleri yerine gelen kesirleri yazacaktır. Buna göre Alp'in yazdığı kesirler sırasıyla aşağıdakilerden hangisidir?

A) $\frac{3}{5}, \frac{12}{5}$

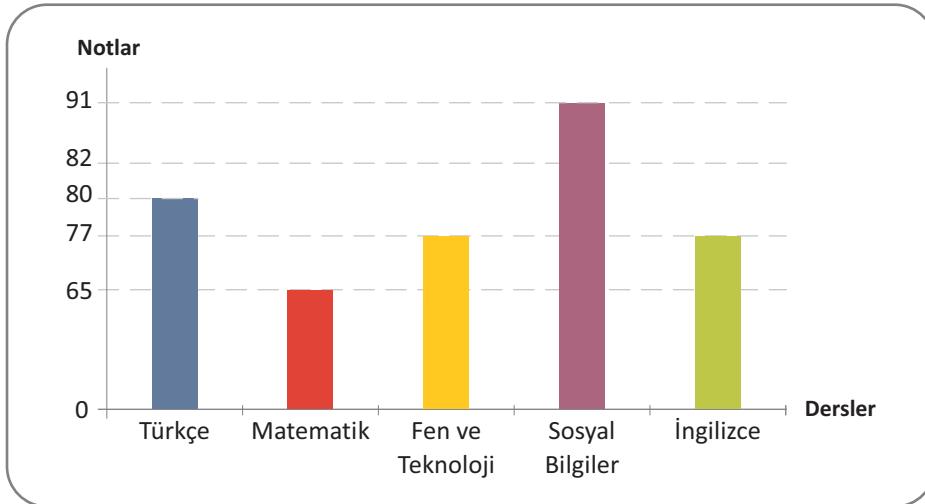
B) $\frac{4}{5}, \frac{13}{5}$

C) $\frac{2}{5}, \frac{3}{5}$

D) $\frac{3}{6}, \frac{14}{6}$

5

Aşağıdaki grafikte bir öğrencinin Türkçe, Matematik, Fen ve Teknoloji, Sosyal Bilgiler ve İngilizce sınavlarından aldığı puanlar gösterilmektedir.



Buna göre bu öğrencinin Sosyal Bilgiler dersinden aldığı not ile Fen ve Teknoloji dersinden aldığı not arasındaki fark kaçtır?

A) 5

B) 11

C) 14

D) 26

1 Aşağıdaki cümlelerde altı çizili sözcüklerden hangisi mecaz anlamda kullanılmıştır?

- A) Geçen akşam çok mutsuz görünüyordun.
- B) Dolaptaki bütün tabaklar kırılmış.
- C) Kapalıçarşı her zaman insan kaynar.
- D) Soğuk su içersen hasta olursun.

2



“Harcamak” sözcüğünün bu afişteki anlamı aşağıdakilerden hangisidir?

- A) Herhangi bir nesneyi bir şey yapmak için kullanmak, tüketmek
- B) Birinin ölmesine sebep olmak
- C) Bir kimseyi manevi yönden kötü duruma düşürmek, feda etmek
- D) Birinin değer ve onurunu kırıcı bir durum yaratmak

3

“Ağır” sözcüğü aşağıdaki cümlelerden hangisinde “yavaş” sözcüğünün eş anlamlısı olarak kullanılmıştır?

- A) Siyah araba ağır gidiyordu.
- B) Bu ağır sorumluluğu taşıyamıyorum.
- C) Ağır bir koku vardı odada.
- D) Annemin elindeki ağır poşetleri aldım.

- 4
1. Sonra sırasıyla süt, tahin ve cevizi de katıp karıştıralım.
 2. Kek yapmak için önce yumurtaları ve şekeri iyice çırpıp içine pekmezi ilave edelim.
 3. Ceviz, süt ve tahini karıştırdıktan sonra unu, kabartma tozunu ve vanilyayı da başka bir kaptaki eleyip karışıma ekleyelim.
 4. Harcımızı yağlanmış ve unlanmış bir kek kalıbına döküp önceden ısıttığımız 180 derece fırında yaklaşık 30 dakika pişirelim.

Yukarıdaki cümlelerle anlamlı bir paragraf oluşturmak için sıralama nasıl olmalıdır?

- A) 2 - 1 - 3 - 4 B) 3 - 1 - 2 - 4 C) 2 - 3 - 4 - 1 D) 1 - 4 - 3 - 2

- 5
- Kayapo yerlileri adlı kabile, Amazon Yağmur Ormanları'nın derinliklerinde, hasırdan kulübelerde yaşarlar. Kabilenin adı "maymun gibi" anlamına gelir. Bu ismin kaynağı, her yıl düzenlenen bir kutlama sırasında kabile erkeklerinin maymun maskeleriyle yaptığı dandır.

Bu parçadan "Kayapo yerlileri" ile ilgili aşağıdaki bilgilerden hangisine değinilmemiştir?

- A) Amazon yağmur ormanlarının derinliklerinde yaşadıklarına
B) "Kayapo" adının anlamının "maymun gibi" olduğuna
C) Ulaşım için kayıkları kullandıklarına
D) Hasırdan kulubelerde yaşadıklarına